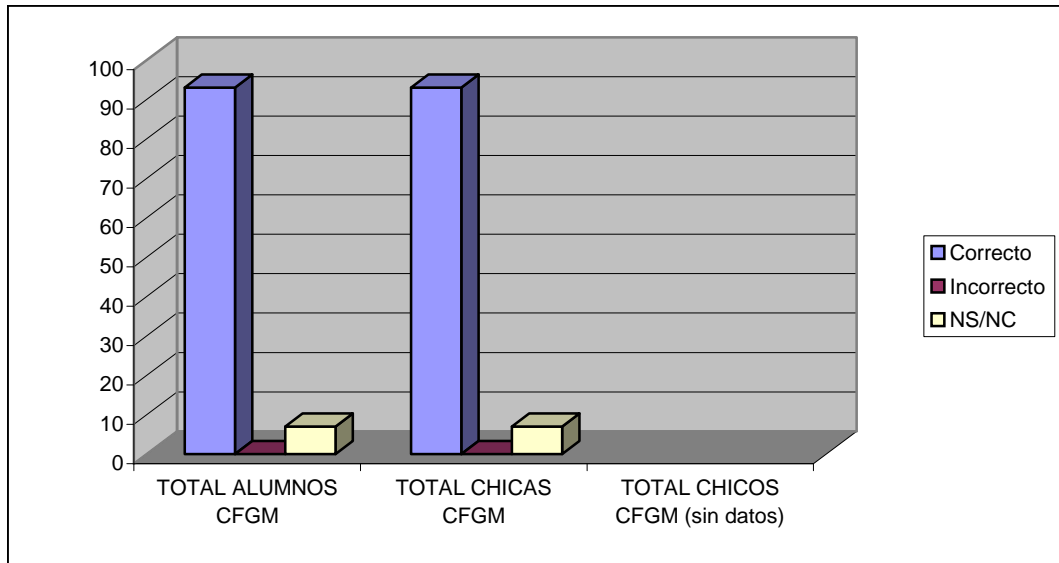


## PREGUNTAS

- 1 ¿Quién promulgó en 1999 la conmemoración del 25N y por qué?
- 2 ¿Ves necesario que se destine un día mundial para esto?
- 3 Expón un par de síntomas que veas a tu alrededor de desigualdad hombre/mujer
- 4 ¿Qué papel juega la educación en la desigualdad entre mujeres y hombres?
- 5 Propón un par de soluciones para ser iguales en derechos y oportunidades reales

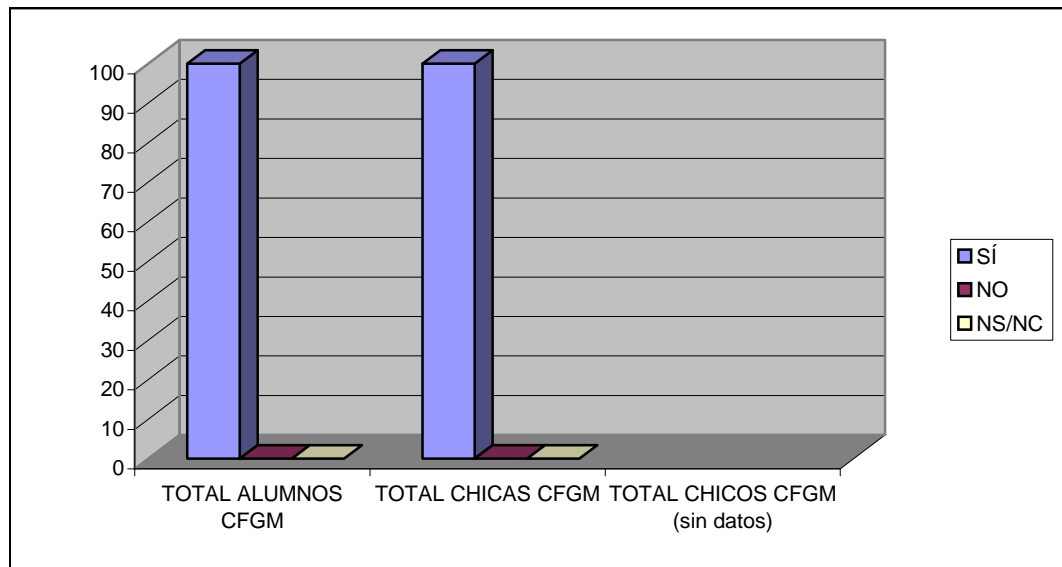
1 ¿Quién promulgó en 1999 la conmemoración del 25N y por qué?

	PORCENTAJES		
	Correcto	Incorrecto	NS/NC
<b>TOTAL ALUMNOS CFGM</b>	<b>93</b>	<b>0</b>	<b>7</b>
<b>TOTAL CHICAS CFGM</b>	<b>93</b>	<b>0</b>	<b>7</b>
<b>TOTAL CHICOS CFGM (sin datos)</b>			
CHICAS 1º CFGM	93	0	7
CHICAS 2º CFGM			
CHICOS 1º CFGM			
CHICOS 2º CFGM			



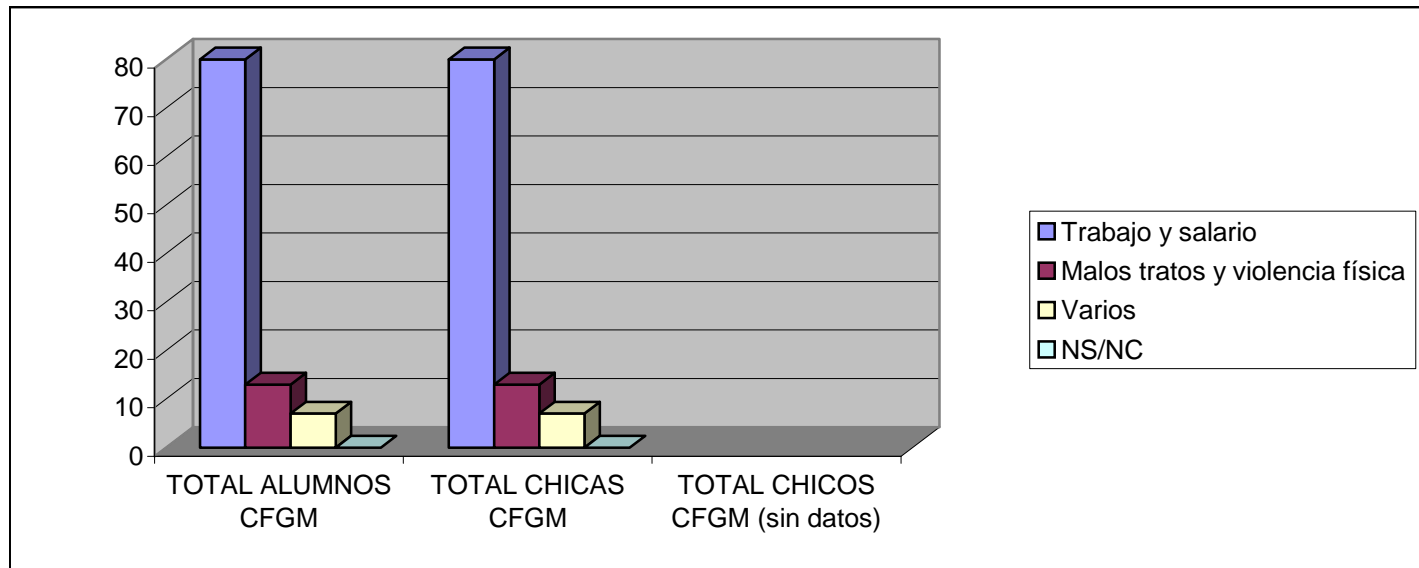
2 ¿Ves necesario que se destine un día mundial para esto?

	PORCENTAJES		
	SÍ	NO	NS/NC
<b>TOTAL ALUMNOS CFGM</b>	<b>100</b>	<b>0</b>	<b>0</b>
<b>TOTAL CHICAS CFGM</b>	<b>100</b>	<b>0</b>	<b>0</b>
<b>TOTAL CHICOS CFGM (sin datos)</b>			
CHICAS 1º CFGM	100	0	0
CHICAS 2º CFGM			
CHICOS 1º CFGM			
CHICOS 2º CFGM			



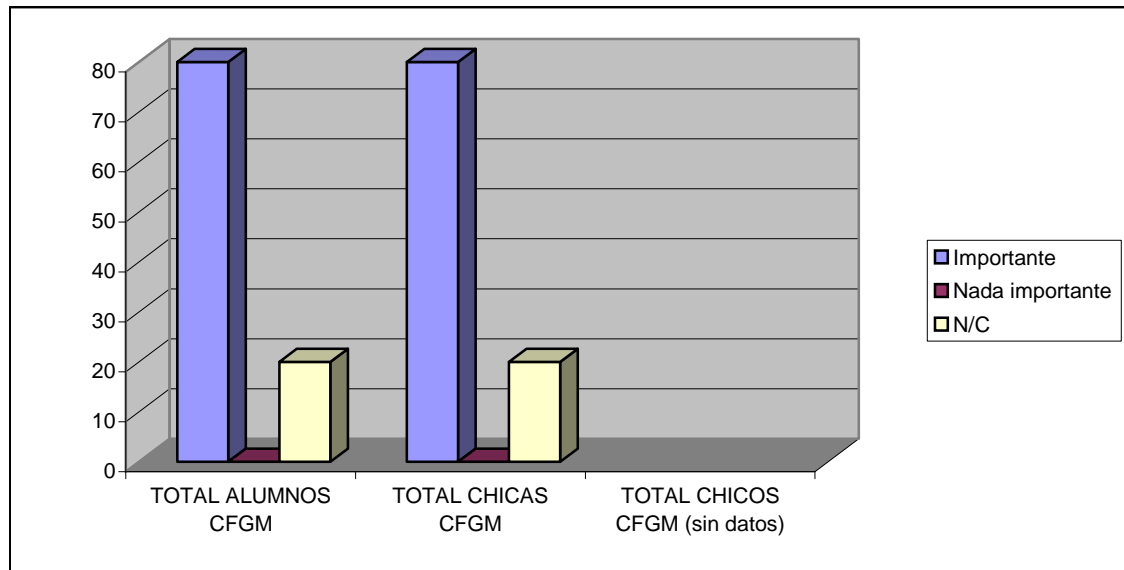
3 Expón un par de síntomas que veas a tu alrededor de desigualdad hombre/mujer

	PORCENTAJES			
	Trabajo y salario	Malos tratos y violencia física	Varios	NS/NC
TOTAL ALUMNOS CFGM	80	13	7	0
TOTAL CHICAS CFGM	80	13	7	0
TOTAL CHICOS CFGM (sin datos)				
CHICAS 1º CFGM	80	13	7	
CHICAS 2º CFGM				
CHICOS 1º CFGM				
CHICOS 2º CFGM				



4 ¿Qué papel juega la educación en la desigualdad entre mujeres y hombres?

	PORCENTAJES		
	Importante	Nada importante	N/C
<b>TOTAL ALUMNOS CFGM</b>	<b>80</b>	<b>0</b>	<b>20</b>
<b>TOTAL CHICAS CFGM</b>	<b>80</b>	<b>0</b>	<b>20</b>
<b>TOTAL CHICOS CFGM (sin datos)</b>			
CHICAS 1º CFGM	80	0	20
CHICAS 2º CFGM			
CHICOS 1º CFGM			
CHICOS 2º CFGM			



5 Propón un par de soluciones para ser iguales en derechos y oportunidades reales

	PORCENTAJES					
	Educación en igualdad	Salarios y mundo laboral	Oportunidades	Trato igualitario	Varias	NS/NC
TOTAL ALUMNOS CFGM	11	65	0	11	0	13
TOTAL CHICAS CFGM	11	65	0	11	0	13
TOTAL CHICOS CFGM (sin datos)						
CHICAS 1º CFGM	11	65	0	11	0	13
CHICAS 2º CFGM						
CHICOS 1º CFGM						
CHICOS 2º CFGM						

