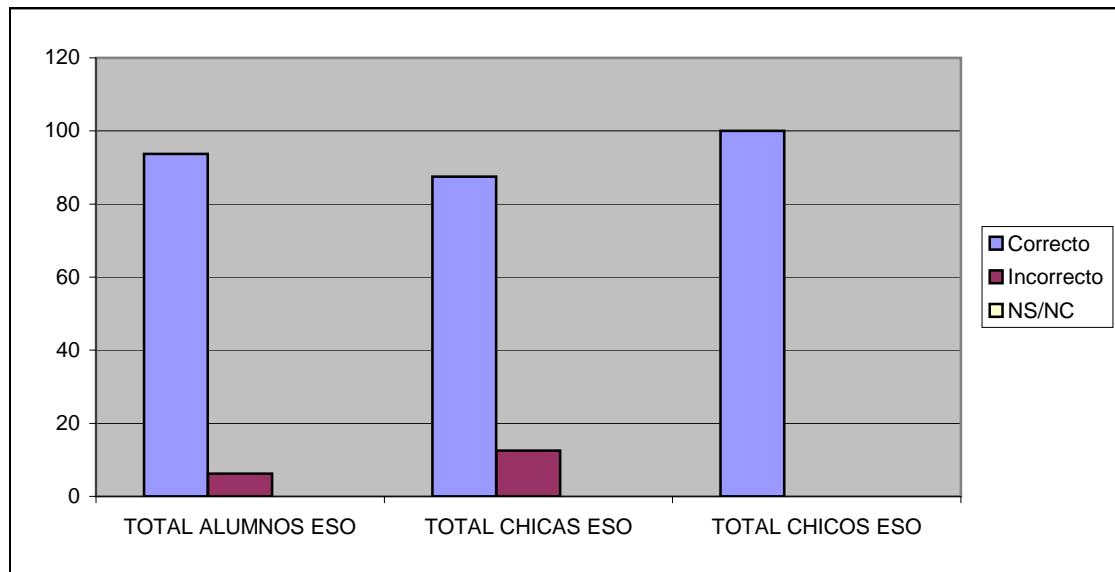


## PREGUNTAS

- 1 ¿Quién promulgó en 1999 la conmemoración del 25N y por qué?
- 2 ¿Ves necesario que se destine un día mundial para esto?
- 3 Expón un par de síntomas que veas a tu alrededor de desigualdad hombre/mujer
- 4 ¿Qué papel juega la educación en la desigualdad entre mujeres y hombres?
- 5 Propón un par de soluciones para ser iguales en derechos y oportunidades reales

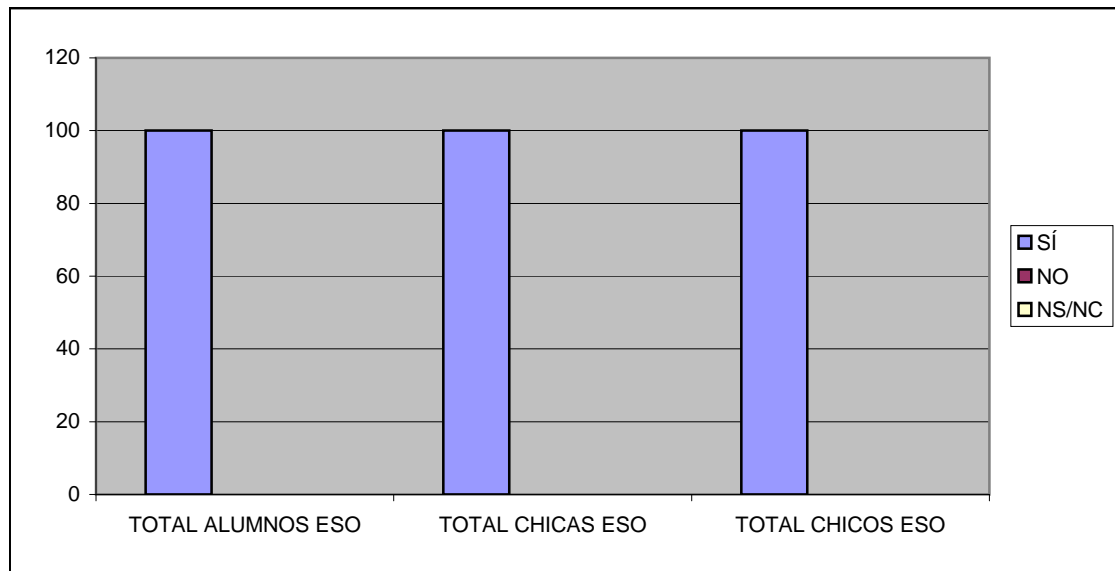
1 ¿Quién promulgó en 1999 la conmemoración del 25N y por qué?

	PORCENTAJES		
	Correcto	Incorrecto	NS/NC
<b>TOTAL ALUMNOS ESO</b>	<b>94</b>	<b>6</b>	<b>0</b>
<b>TOTAL CHICAS ESO</b>	<b>88</b>	<b>13</b>	<b>0</b>
<b>TOTAL CHICOS ESO</b>	<b>100</b>	<b>0</b>	<b>0</b>
CHICAS 2º ESO	75	25	0
CHICAS 1º ESO	100	0	0
CHICOS 1º ESO	100	0	0



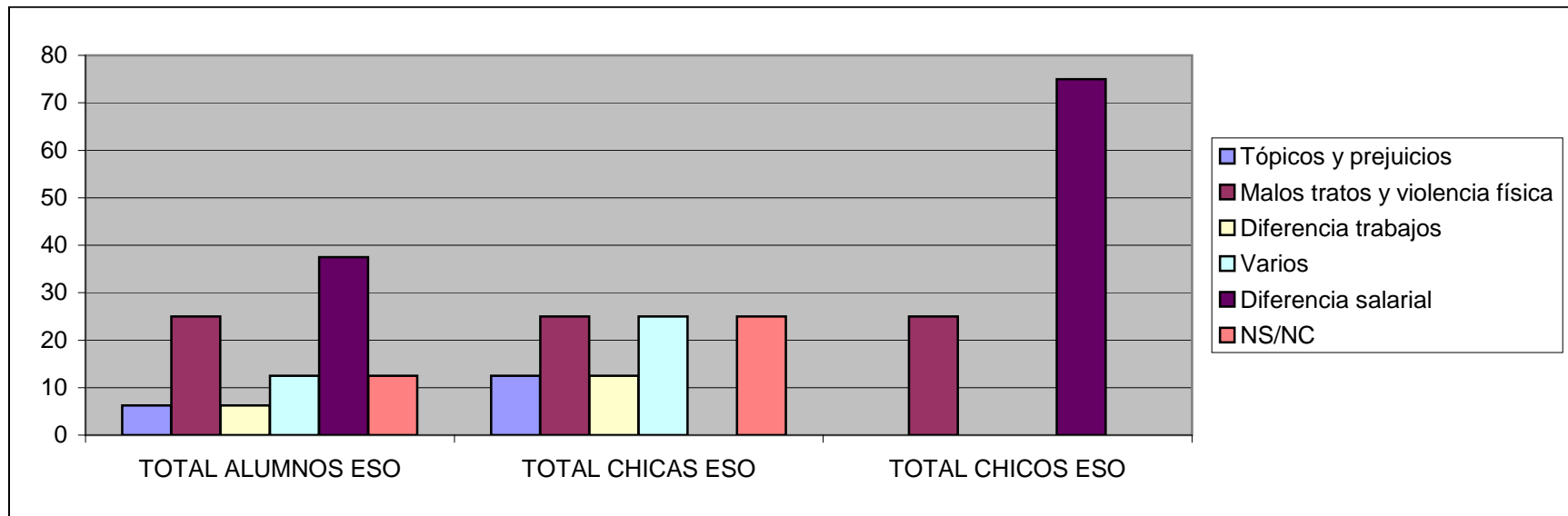
2 ¿Ves necesario que se destine un día mundial para esto?

	PORCENTAJES		
	SÍ	NO	NS/NC
<b>TOTAL ALUMNOS ESO</b>	<b>100</b>	<b>0</b>	<b>0</b>
<b>TOTAL CHICAS ESO</b>	<b>100</b>	<b>0</b>	<b>0</b>
<b>TOTAL CHICOS ESO</b>	<b>100</b>	<b>0</b>	<b>0</b>
CHICAS 2º ESO	100	0	0
CHICAS 1º ESO	100	0	0
CHICOS 1º ESO	100	0	0



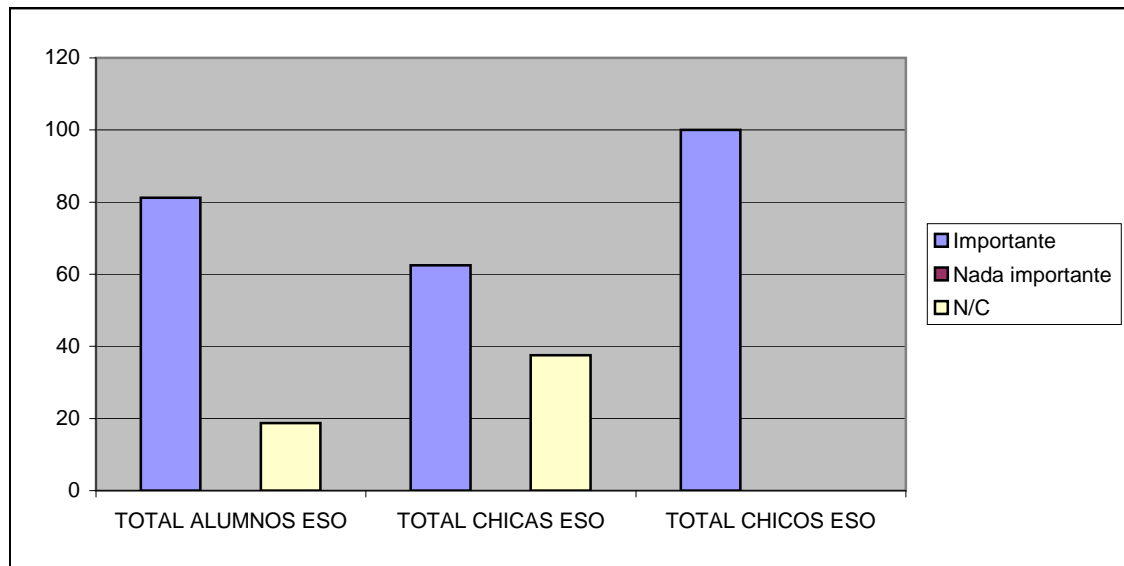
3 Expón un par de síntomas que veas a tu alrededor de desigualdad hombre/mujer

	Tópicos y prejuicios	Malos tratos y violencia física	Diferencia trabajos	Varios	Diferencia salarial	NS/NC
<b>TOTAL ALUMNOS ESO</b>	6	25	6	13	38	13
<b>TOTAL CHICAS ESO</b>	13	25	13	25	0	25
<b>TOTAL CHICOS ESO</b>	0	25	0	0	75	0
CHICAS 2º ESO	25	25	0	0	0	50
CHICAS 1º ESO	0	25	25	50	0	0
CHICOS 1º ESO	0	25	0	0	75	0



4 ¿Qué papel juega la educación en la desigualdad entre mujeres y hombres?

	PORCENTAJES		
	Importante	Nada importante	N/C
<b>TOTAL ALUMNOS ESO</b>	<b>81</b>	<b>0</b>	<b>19</b>
<b>TOTAL CHICAS ESO</b>	<b>63</b>	<b>0</b>	<b>38</b>
<b>TOTAL CHICOS ESO</b>	<b>100</b>	<b>0</b>	<b>0</b>
CHICAS 2º ESO	25	0	75
CHICAS 1º ESO	100	0	0
CHICOS 1º ESO	100	0	0



5 Propón un par de soluciones para ser iguales en derechos y oportunidades reales

	PORCENTAJES			
	Educación en igualdad	Tratarnos con igualdad	Igualdad salarial	NS/NC
<b>TOTAL ALUMNOS ESO</b>	<b>23</b>	<b>5</b>	<b>50</b>	<b>23</b>
<b>TOTAL CHICAS ESO</b>	<b>45</b>	<b>10</b>	<b>20</b>	<b>25</b>
<b>TOTAL CHICOS ESO</b>	<b>0</b>	<b>0</b>	<b>80</b>	<b>20</b>
CHICAS 2º ESO	50	0	0	50
CHICAS 1º ESO	40	20	40	0
CHICOS 1º ESO	0	0	80	20

